
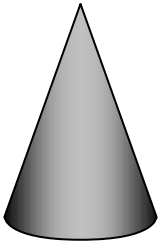
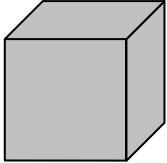
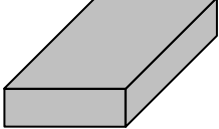
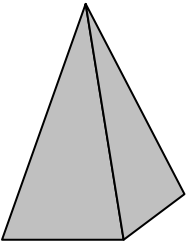



Räumliche Figuren

- 1) Ordne die folgenden Gegenstände in die Tabelle ein:

Ziegelstein, Zuckerhut, Futtersilo, Würfelzucker, Strohalm, Eistüte, Konservendose, Tischplatte, Trichter, Fußball, Tetrapack

					
Zylinder	Kegel	Würfel	Quader	Pyramide	Kugel
Milchdose . . .	Zauberhut . . .				

- 2) Welche Begrenzungsflächen besitzen die in der Tabelle enthaltenen geometrischen Körper? Trage die Anzahl der in jeder Figur vorkommenden Grundformen ein.

Begrenzungsflächen (Grundformen)	Quader	Würfel	Pyramide	Zylinder	Kegel	Kugel
Rechteck						
Quadrat						
Dreieck						
Kreis						

- 3) Aus welchen geometrischen Körpern sind die folgenden Körper zusammengesetzt?

